

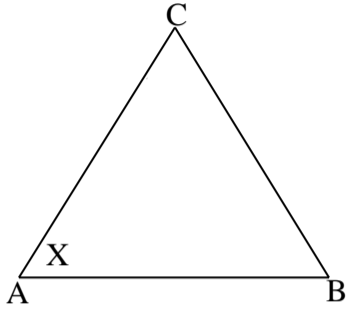
MATEMÁTICA
HOJA DE TRABAJO
SEXTO AÑO BÁSICO
II SEMESTRE 2016

Nombre: _____ **Curso:** _____

Resuelve los siguientes ejercicios.

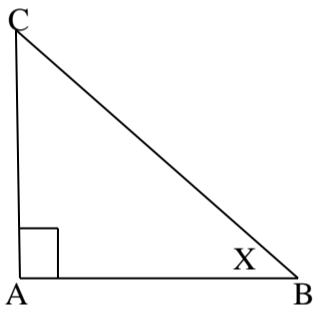
1) En cada triángulo calcular la medida del $\angle X$, Justifique su respuesta.

a)



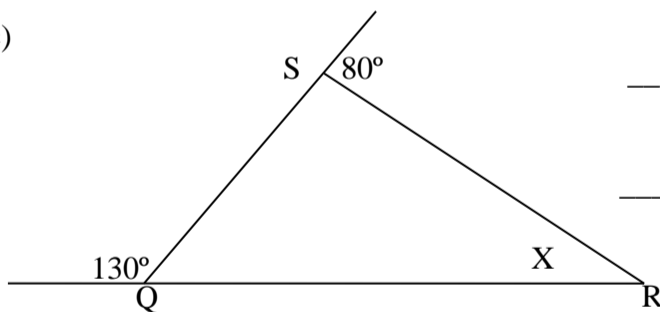
ΔABC equilátero.

b)



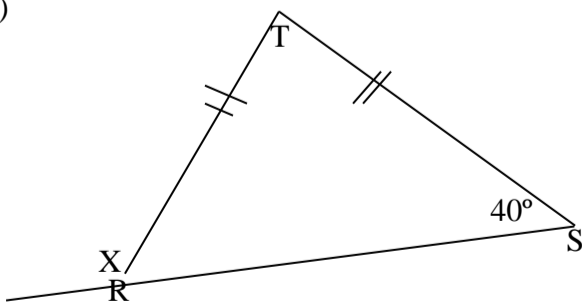
ΔABC rectángulo isósceles

c)



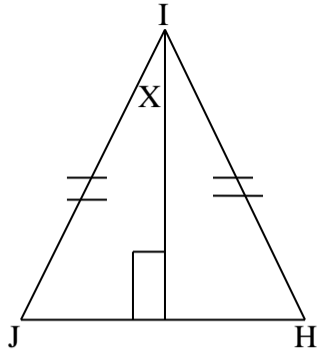
ΔQRS obtusángulo.

d)



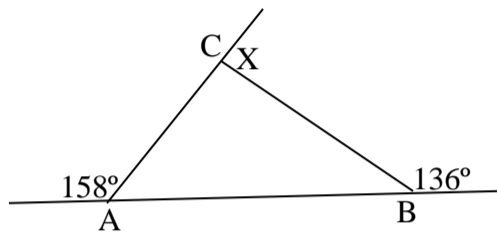
ΔRST isósceles.

e)



Δ JHI isósceles

f)



g) El triángulo ABC es isósceles CD es altura, entonces la medida del ángulo X es:

