

GUIA EJERCITACIÓN 8
MATEMÁTICA
CUARTO BÁSICO
II SEMESTRE 2016

Nombre: _____ **Curso:** 4° ____ **Fecha:** ____/____/2016

Para revisión de la guía, puedes traerla desde el martes 11 hasta el viernes 14 de octubre

1.- Escribe >, < o = según corresponda.

- | | | |
|--------------------|---------------------|---------------------|
| a) 3,54 _____ 0,65 | c) 83,83 _____ 83,8 | e) 56,90 _____ 56,9 |
| b) 6,8 _____ 6,80 | d) 0,34 _____ 0,9 | f) 0,01 _____ 0,1 |

2.- Resuelve los siguientes problemas.

- a) Carla tiene una cuerda que mide 1,3 cm. Su amiga Alejandra tiene otra cuerda que mide 1,30 cm
¿Quién tiene la cuerda más larga?
- b) Julieta y José tiene cada uno su dibujo. Julieta ha pintado cincuenta y cuatro centésimos de su dibujo y José seis décimos de su dibujo. ¿Quién ha pintado menos de su dibujo?










3.- Resuelve las siguientes adiciones.

- | | | |
|-----------------|--------------------------|----------------------|
| a) $2,4 + 4,67$ | c) $43,6 + 123,65 + 0,1$ | e) $0,56 + 3 + 57,3$ |
|-----------------|--------------------------|----------------------|

4.- Resuelve los siguientes problemas.

- a) La mamá de Maite compró una tela para confeccionar unas cortinas y ocupó 3,24 metros. Si le sobraron 0,67 metros de tela ¿De qué tamaño era la tela que compró?
- b) Pedro regalo treinta y cuatro centésimos su barra de cereal a su primo y dos décimos a su hermano
¿Cuántos centésimos de la barra regaló?

5.- Escribe el nombre del cuerpo geométrico al que le corresponden las vistas

| | | |
|---|---|---|
| a) Planta Elevación Perfil    | b) Planta Elevación Perfil    | c) Planta Elevación Perfil    |
|---|---|---|
